


# امتحان متوقع الثلاثي 1 الإيقاظ العلمي

## سنة 3

### اعداد الأستاذة سامية



أذكر 3 أسباب لتتنقل الحيوانات.

.....  
.....  
.....

ولدي ديما ياجح - كل المستويات

قال الأب : لقد حان وقت العودة للمنزل.

فأجاب سامي : كم الساعة الآن يا أبي.

أذكر 3 وسائل لقيس الزمن.

.....  
.....  
.....

أرسم ساعة رملية.

## حظا موفقا يا أبنائي

الأستاذة سامية





Droussi.org

↔ ↔ ↔ ↔ ↔ ↔ ↔ ↔ ↔ ↔ ↔ ↔ ↔ ↔ ↔ ↔ ↕  
↕  
↕  
↕ **سنة 3** ↕  
↕  
↕  
↕ ↔ ↔ ↔ ↔ ↔ ↔ ↔ ↔ ↔ ↔ ↔ ↔ ↔ ↔ ↔ ↔ ↕

# امتحان متوقع الثلاثي 1 الإيقاظ العلمي

## اعداد الأستاذة سامية

شاهد سامي أيضا حيوانات مختلفة.

أذكر 3 حيوانات تعدو

.....

أذكر 3 حيوانات تقفز

.....

ولدي ليما ناجح - كل المستويات

أذكر 3 حيوانات تسبح

.....

أذكر 3 حيوانات تطير

.....

أذكر 3 حيوانات لديها جناحان لكنها لا تطير

.....

أجيب بصحيح أو خطأ و أصلح الخطأ إن وجد.

لا تطير الدجاجة لأنها تبيض.

.....


الفهد يعدو لأن لديه أربع قوائم.

.....

التمساح يسبح بمساعدة ذيله.

.....

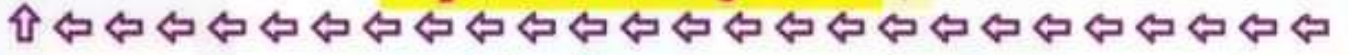




سنة 3

امتحان متوقع الثلاثي 1  
الإيقاظ العلمي

اعداد الأستاذة سامية



دخلنا إلى القسم ، الساعة تشير إلى الساعة و 45 دقيقة .  
قالت معلمتنا : بعد 20 دقيقة سنبدأ حصة الرسم .  
أسجل وقت بداية حصة الرسم على ساعة ذات عقارب .

ولدي فيما ناجح - كل المستويات

حصة الرسم كانت مدتها 30 دقيقة .  
أسجل وقت نهاية حصة الرسم على ساعة ذات خانات .

بعد إنتهاء حصة الرسم ، قالت معلمتنا : ستكون كل أسبوع مثل  
هذا اليوم حصة رسم .

إملاً الفراغ بما يناسب :


حصة الرسم حدث .....

لأنها : .....

بعد نهاية اليوم الدراسي ، ذهب سامي مع عائلته إلى حديقة الحيوانات .  
شاهدت العائلة العديد من الحيوانات . لكن سامي بقي منبهراً بما رآه .  
لقد رأى بطة في بركة من الماء ، فسأل نفسه لماذا لا تستطيع  
الدجاجة التنقل في الماء .

أجيب سامي على سؤاله :


الأستاذة سامية



# إمتحان متوقع الثلاثي 1 الإيقاظ العلمي

سنة 3

## اعداد الأستاذة سامية



أذكر 3 أسباب لتتنقل الحيوانات.  
للبحث عن الغذاء و المرعى  
للتكاثر

البحث عن الأماكن الآمنة لصغارها

ولدي ديما يا حبيبي - كل المستويات

قال الأب : لقد حان وقت العودة للمنزل.  
فأجاب سامي : كم الساعة الآن يا أبي.  
أذكر 3 وسائل لقياس الزمن.

الساعة الرملية  
الساعة المائية  
الساعة الإلكترونية

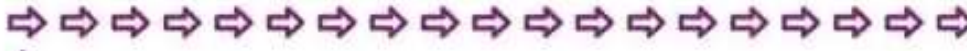
أرسم ساعة رملية.



# حظا موفقا يا أبنائي

الأستاذة سامية



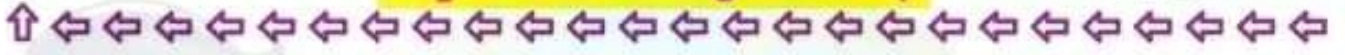


# امتحان متوقع الثلاثي 1 الإيقاظ العلمي



## سنة 3

### إعداد الأستاذة سامية



شاهد سامي أيضا حيوانات مختلفة.

أذكر 3 حيوانات تعدو

الفهد - الكلب - الثعلب

أذكر 3 حيوانات تقفز

الكنغر - الضفدعة - القرد

أذكر 3 حيوانات تسبح

السمة - الدلفين - التمساح

أذكر 3 حيوانات تطير

النسر - البومة - الحمامة

أذكر 3 حيوانات لديها جناحان لكنها لا تطير

النعام - الدجاجة - البطة

أجيب بصحيح أو خطأ و أصلح الخطأ إن وجد.

لا تطير الدجاجة لأنها تبيض.

خطأ ، لأن لديها جناحان صغيران مقارنة بوزنها الكبير.

الفهد يعدو لأن لديه أربع قوائم.

صحيح

التمساح يسبح بمساعدة ذيله.

صحيح

الأستاذة سامية






# إمتحان متوقع الثلاثي 1 الإيقاظ العلمي

## سنة 3



## اعداد الأستاذة سامية



دخلنا إلى القسم ، الساعة تشير إلى الساعة و 45 دقيقة .  
قالت معلمتنا : بعد 20 دقيقة سنبدأ حصة الرسم .  
أسجل وقت بداية حصة الرسم على ساعة ذات عقارب .



وقت بداية حصة الرسم : 05 : 08

ولدي نيمانا نجح - كل المستويات

حصة الرسم كانت مدتها 30 دقيقة .

أسجل وقت نهاية حصة الرسم على ساعة ذات خانات .

08:35

وقت نهاية حصة الرسم : 35 : 08

بعد إنتهاء حصة الرسم ، قالت معلمتنا : ستكون كل أسبوع مثل هذا اليوم حصة رسم .

**إملا الفراغ بما يناسب :**

حصة الرسم حدث .... بوبري .....

لأننا نعرف زمن حدوثها

لأننا نتأهب لقدمها و نعد لها أدوات الرسم

بعد نهاية اليوم الدراسي ، ذهب سامي مع عائلته إلى حديقة الحيوانات .

شاهدت العائلة العديد من الحيوانات . لكن سامي بقي منبهرا بما رآه .

لقد رأى بطة في بركة من الماء ، فسأل نفسه لماذا لا تستطيع

الدجاجة التنقل في الماء .

**أجيب سامي على سؤاله :**

لأن ليس لديها غشاء جلدي بين أصابعها

الأستاذة سامية

